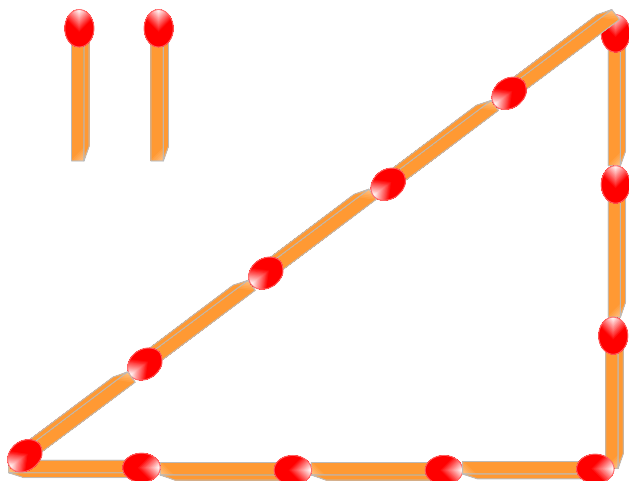
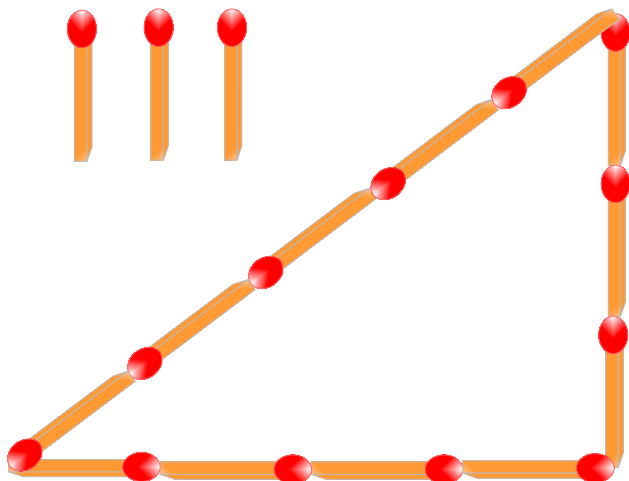


マッチ棒のパズル1

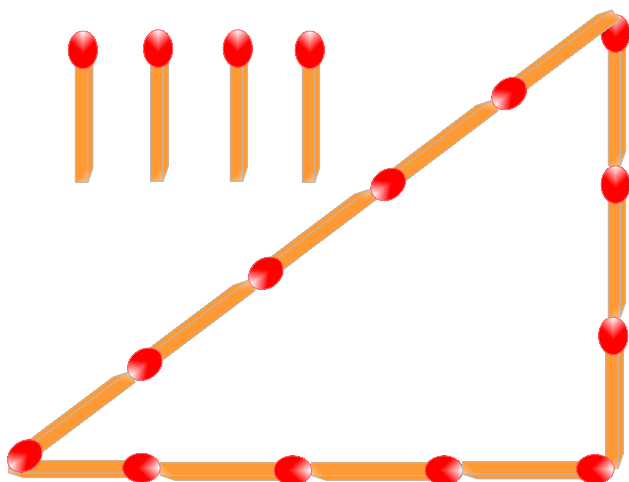
3:4:5のピタゴラスの三角形は電気回路でよく用いられますが、これはまた、よくパズルの題材となります。



問題1。 マッチ棒2本で面積を2等分してください。正確におけること。



問題2。 マッチ棒3本で面積を2等分してください。



問題3。 マッチ棒4本で面積を2等分してください。