



マッチ棒のパズル2


3:4:5のピタゴラスの三角形は電気回路でよく用いられますが、これはまた、よくパズルの題材となります。



問題1。 マッチ棒3本動かして面積を $2/3$ にしてください。正確におけること。



問題2。 マッチ棒4本動かして面積を $1/2$ にしてください。正確におけること。



問題3。 マッチ棒5本動かして面積を $1/3$ にしてください。正確におけること。